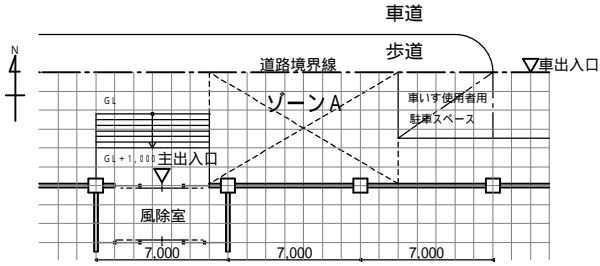
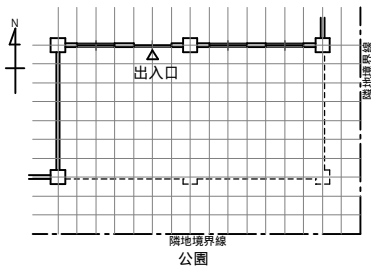


製図試験基礎トライアル 単位空間編7 (屋外施設)

1. 下記の図は1階平面図兼配置図の一部である。建物の1階床レベルが、水害対策として、 $GL + 1,000$ である時、歩道からの高齢者、車いす、車いす使用者用駐車スペースからの車いす動線にも対応したスロープをゾーンAの範囲で計画せよ。

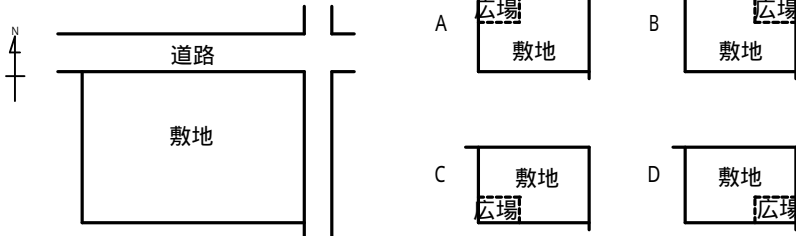


2. 下記の図は2階平面図の一部である。点線部は1階の外壁部アウトラインを表している。この屋上を利用して 100m^2 以上の屋上庭園を計画せよ。尚、屋上庭園は、ピロティ、上部に屋根、ひさし等のある部分は面積に算入しないものとする。



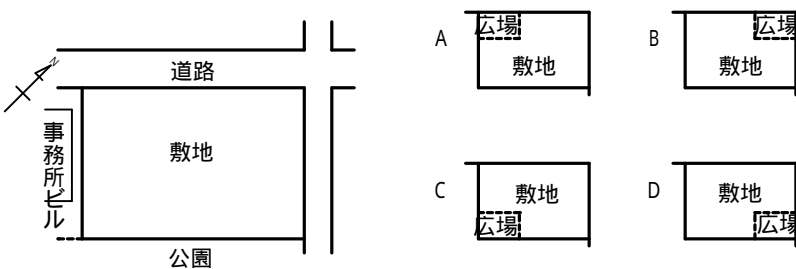
3. 下図の敷地状況において、「地域住民が気軽に利用できる市民広場」を要求された場合、右欄の広場配置を好ましい順に符号で並べよ。

例: $A > B > C > D$



解答: $> > >$

4. 下図の敷地状況において、「施設利用者が気軽に利用できる憩いの広場」を要求された場合、右欄の広場配置を好ましい順に符号で並べよ。



解答: $> > >$